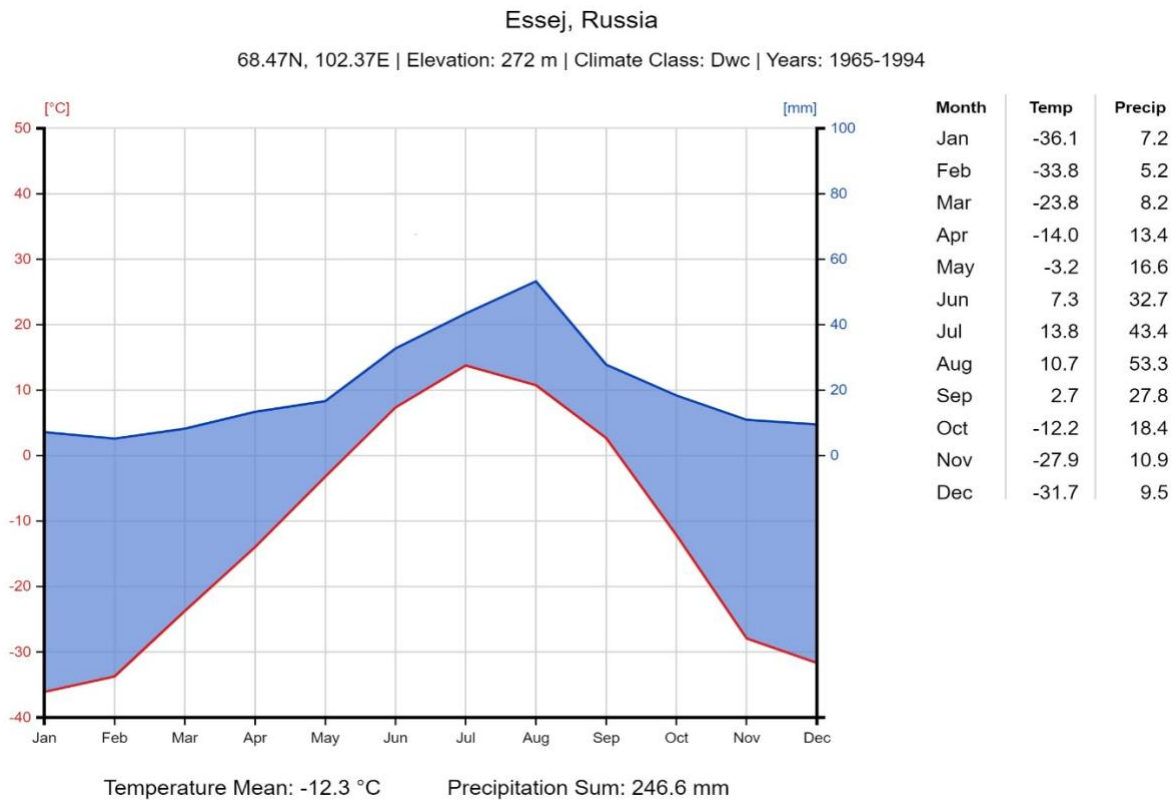


## A. csoport

1. Az atlasz és az éghajlati diagram segítségével állapítsátok meg, hogy milyen éghajlatú az adott oroszországi város!



Az éghajlat:

Milyen növényeket termesztenek?

Milyen állatokat tenyésztnek?

2. Melyik város neve hiányzik a leírásból?

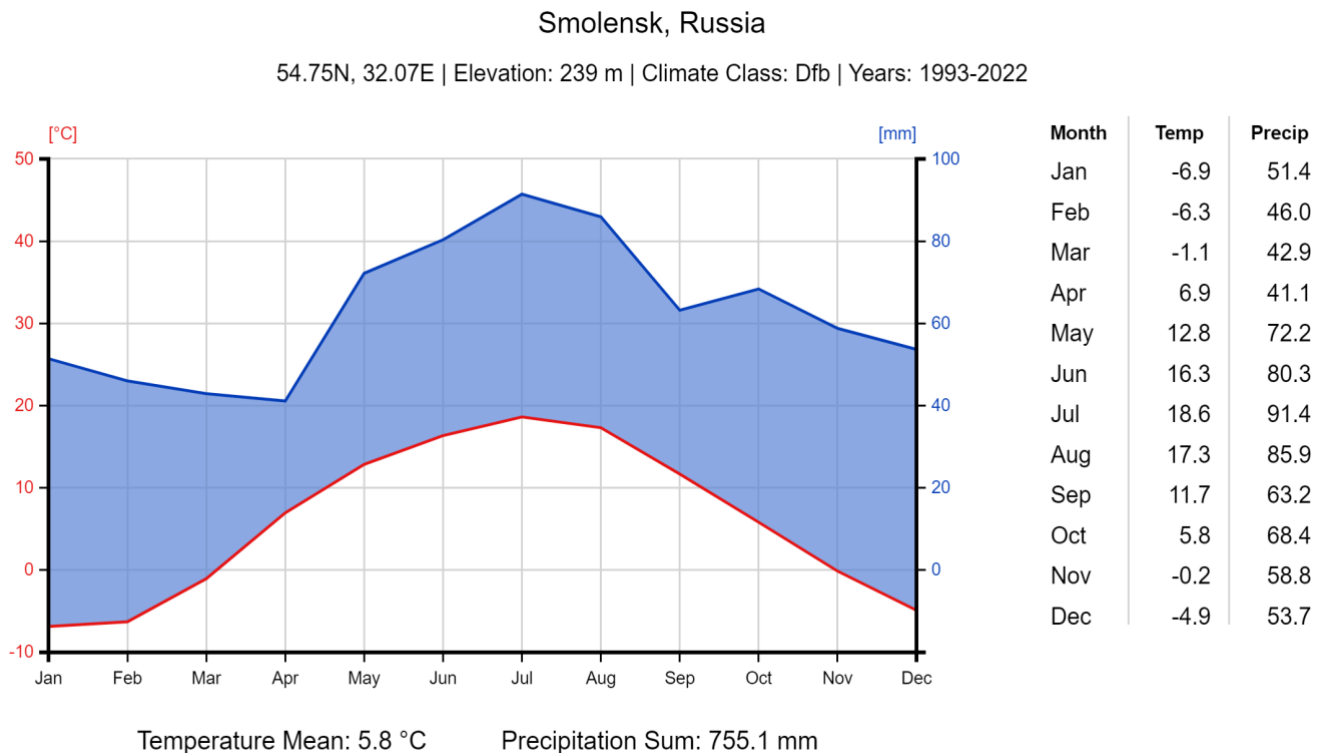
Az északnyugati körzet központja ... , a Nagy Péter által alapított cári főváros, „észak Velencéje”. Nevezetes palotája az Ermitázs, melyben képzőművészeti múzeum van. A körzet fő természeti erőforrása a fenyőerdő fája, telepítőtényezői a szentpétervári egyetemek képzett munkaereje (elektronika). Arhangelszk és Murmanszk kikötői a halászflootta bázisai. Murmanszk fagymentessége a II. világháborúban játszott fontos szerepet, ekkor települt ide hadiipara is. Arhangelszk a fafeldolgozás és a papíripar nagy exportkikötője.

Mi jellemző az adott körzet iparára?

Milyen telepítő tényezők játszottak közre az iparága kialakulásában?

## B. csoport

1. Az atlaszod és az éghajlati diagram segítségével állapítsátok meg, hogy milyen éghajlatú az adott oroszországi város!



Az éghajlat:

Milyen növényeket termesztenek?

Milyen állatokat tenyésztenek?

2. Melyik város neve hiányzik a leírásból?

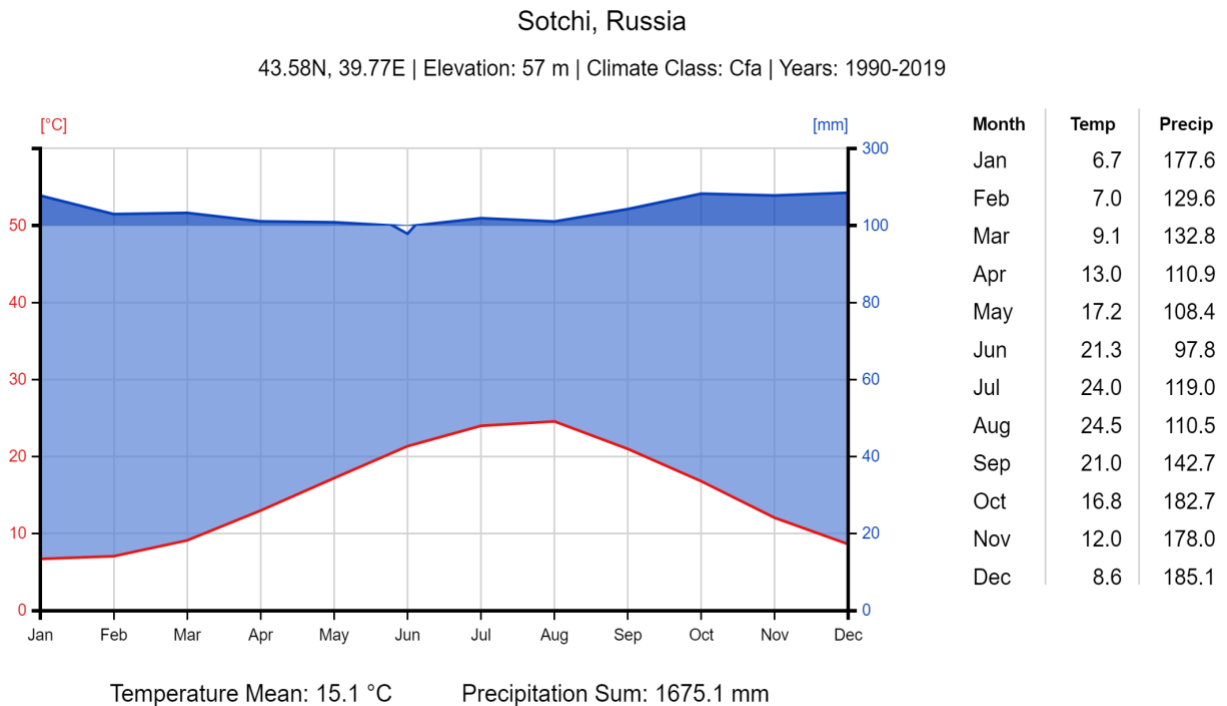
A központi körzet legjelentősebb városa ..., melynek központja a Vörös tér és a Kreml. Természeti erőforrások nem jellemzők, a tömeges munkaerőre textilipar alapult, mely persze gépgyártást (szövőgépek) és vegyipart (műszálak, festékek) is jelent. Jellemző még a szakképzettségre épülő elektronika és a műszeripar is. A központ a sűrűn lakott európai síkság közepén fekszik, a sugaras, itt összpontosuló úthálózat következtében közlekedésszergyártása jelentős: a Metrovagonmas itt készíti a metrókocsikat.

Mi jellemző az adott körzet iparára?

Milyen telepítő tényezők játszottak közre az iparága kialakulásában?

## C. csoport

1. Az atlaszod és az éghajlati diagram segítségével állapítsátok meg, hogy milyen éghajlatú az adott oroszországi város!



Az éghajlat:

Milyen növényeket termesztenek?

Milyen állatokat tenyésztnek?

2. Melyik város neve hiányzik a leírásból?

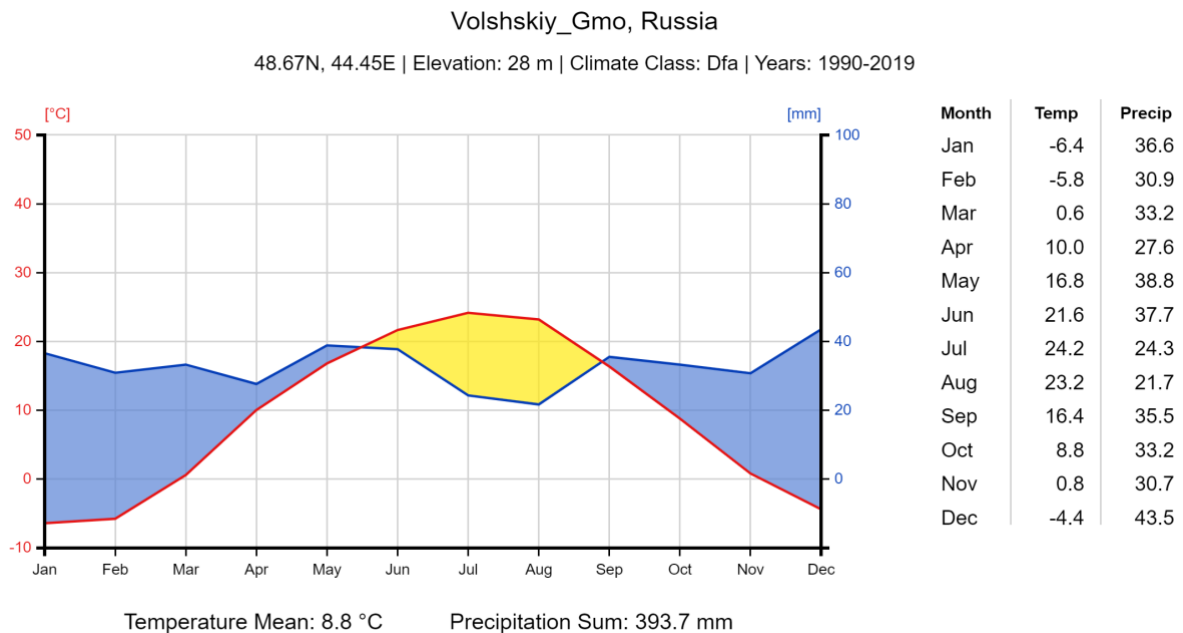
A Volga menti körzet központja ... (1925-től 1961-ig Sztálingrád). A löszvidék mezőgazdasági terület volt a cári időkben, Sztálin az iparosításhoz a Volgán vízerőművek láncát építette. A megtermelt olcsó energiára alumíniumkohászat, arra pedig jármű-, repülő- és rakétagyártás települt. A folyamóriás felső szakaszának különböző városaiban készülnek a trolibuszok, a Lada személyautók, illetve a Kamaz teherautók. A Volga és az Urál között kőolajat és földgázt termelnek, a magyarországi gázszállítmányok innen indulnak.

Mi jellemző az adott körzet iparára?

Milyen telepítő tényezők játszottak közre az iparága kialakulásában?

## D. csoport

1. Az atlaszod és az éghajlati diagram segítségével állapítsátok meg, hogy milyen éghajlatú az adott oroszországi város!



Az éghajlat:

Milyen növényeket termesztenek?

Milyen állatokat tenyésztnek?

2. Melyik város neve hiányzik a leírásból?

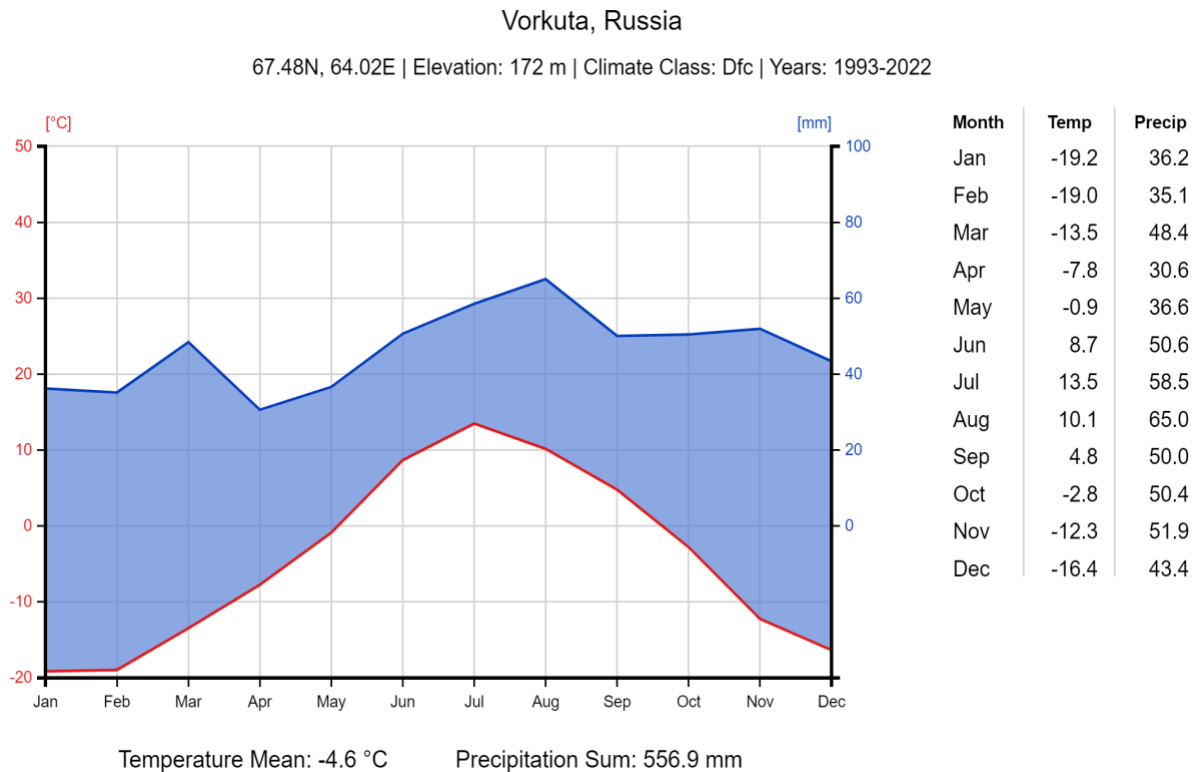
Az uráli körzet központja .... (azaz Katalinvár: Nagy Katalin cárnő alapítása). A röghegység érceire kohászat és gépipar települt, de mára már inkább import nyersanyagokat dolgoznak fel. A második világháború előtt a védett fekvése miatt itt alakították ki a Szovjetunió hadianyag- és a nyersanyagigényes gépgyártási központját (pl. harckocsik). Itt dúsítják a paksi atomerőmű fűtőelemeihez az urániumot is. A rézre, sóra, orenburgi gázra a vegyipar támaszkodik.

Mi lesz jellemző az adott körzet iparára?

Milyen telepítő tényezők játszottak közre az iparága kialakulásában?

## E. csoport

1. Az atlaszod és az éghajlati diagram segítségével állapítsátok meg, hogy milyen éghajlatú az adott oroszországi város!



Az éghajlat:

Milyen növényeket termesztenek?

Milyen állatokat tenyésztnek?

2. Melyik város neve hiányzik a leírásból?

Szibéria, központja ... (magyarra fordítva annyit jelent, hogy „új szibériai város”). Az ország zömét alkotó, alig lakott körzet természeti erőforrásokban (fa, vízerő, kőolaj, földgáz, vasérc, feketekőszén, gyémánt stb.) gazdag, a természeti adottságok és a ritka lakosság azonban nehezíti kiaknázásukat. A lakosság délen, a transzszibériai vasútvonal és a folyók találkozására települt városokban él, Kiemelendő napjaink fő oroszországi kőolaj- és földgázlelőhelye, a Nyugat-szibériai-alföld (nyelvrokonaink, a manysik és hantik lakóhelye).

Mi lesz jellemző az adott körzet iparára?

Milyen telepítő tényezők játszottak közre az iparága kialakulásában?