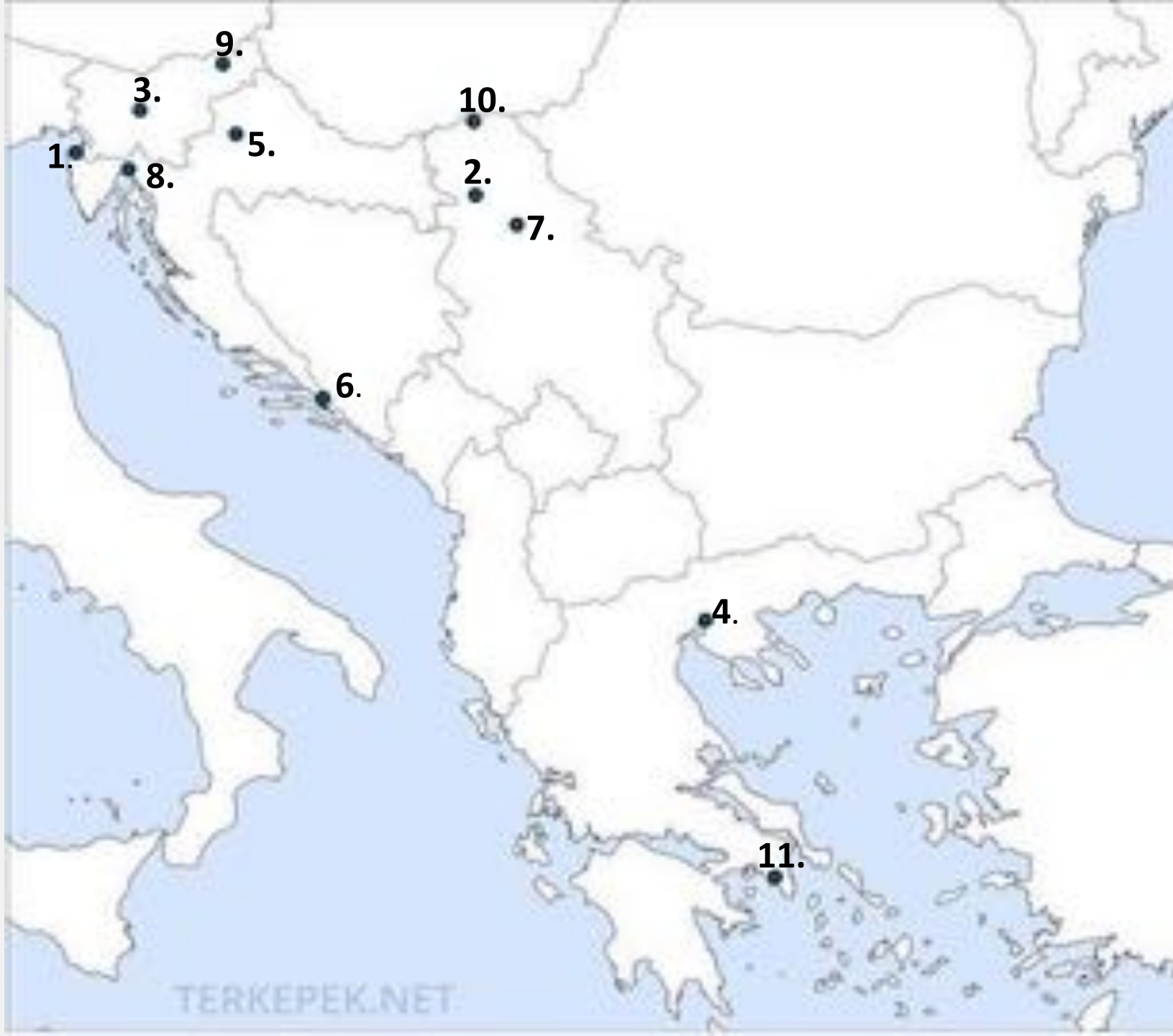


An aerial photograph of a Balkan fjord, likely in Montenegro. The scene features a deep blue body of water nestled between steep, forested mountains. A small town is visible along the shoreline. The lighting suggests a late afternoon or early morning setting, with soft shadows and highlights on the mountain slopes. The text 'Balkán-félsziget országai' is overlaid in the center of the image.

# Balkán-félsziget országai





# OROSZORSZÁG

**Budapest, 2024. 04. 16**

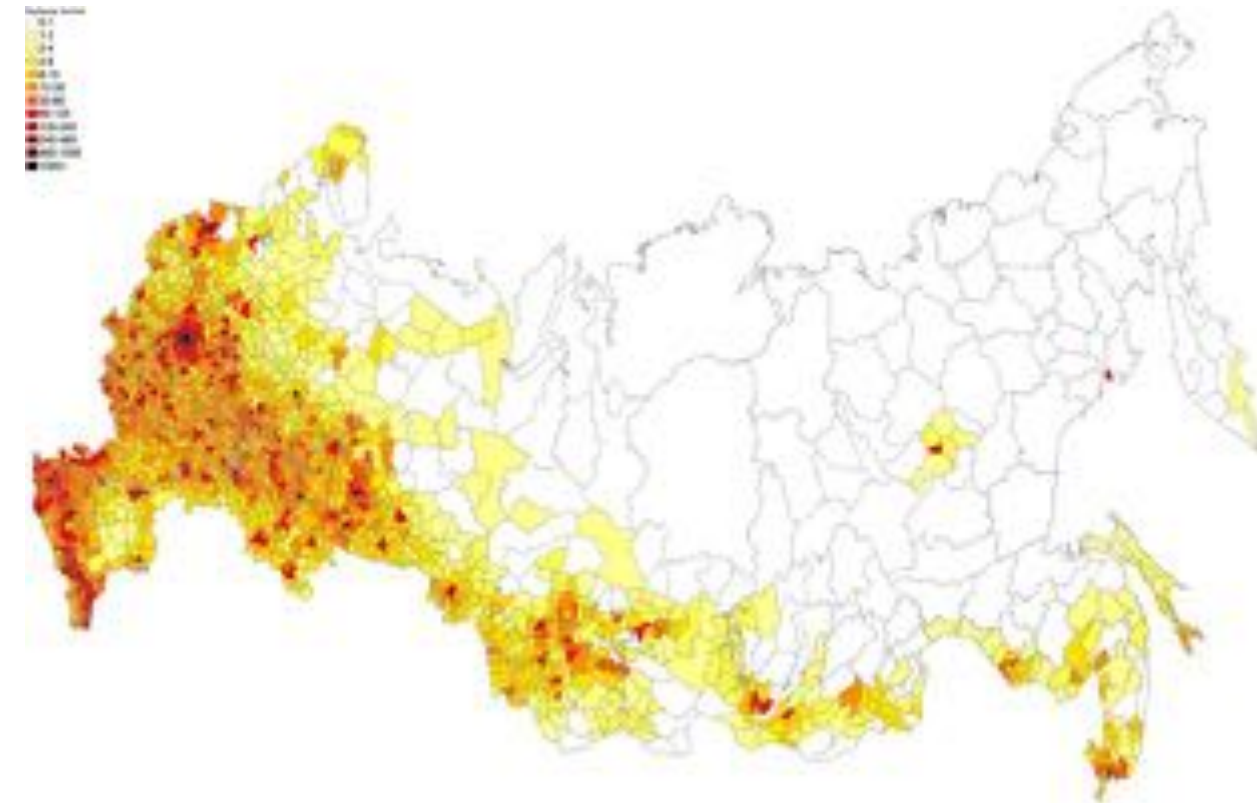
**Kraus Harry Csanád**

I.  
FELADAT  
TÉRKÉP

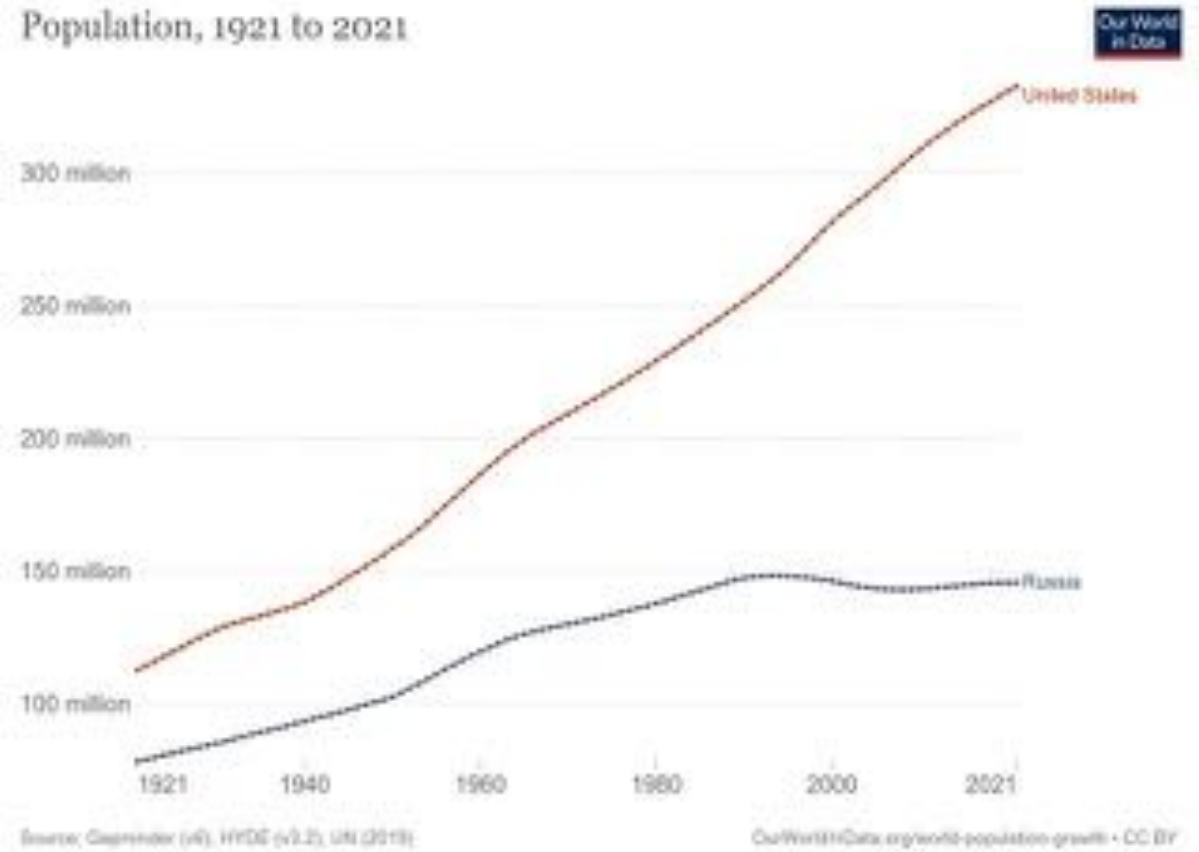


## II. Feladat: Ábrák

Oroszország népsűrűsége



Population, 1921 to 2021



# I. FELADAT



I.  
FELADAT  
TÉRKÉP



**Moszkva**

- 1764 km -

**Jekatyerinburg**

- 943 km -

**Omszk**

- 639 km -



**Novoszibirszk**

- 1885 km -

**Irkutszk**

- 1764 km -

**Vladyivosztok**



**9063 km**



450 km környékén!

Legtöbb: 3 óra 41 perc, 421 km

Mosonmagyaróvár, 9200

Nyíregyháza

Új cél hozzáadása

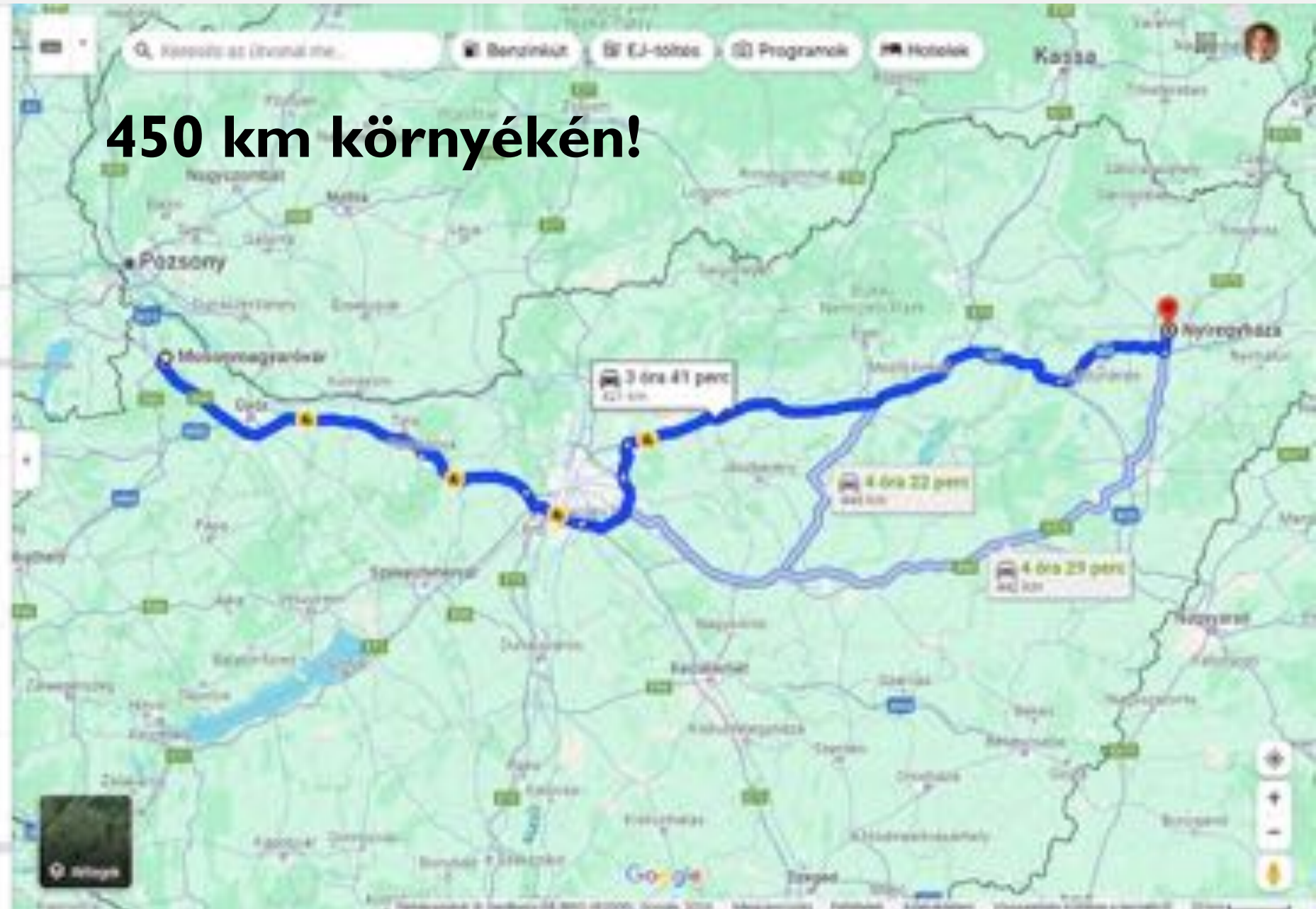
Indulás módja: Beállítások

Útvonaltervezés telefonra

Link másolása

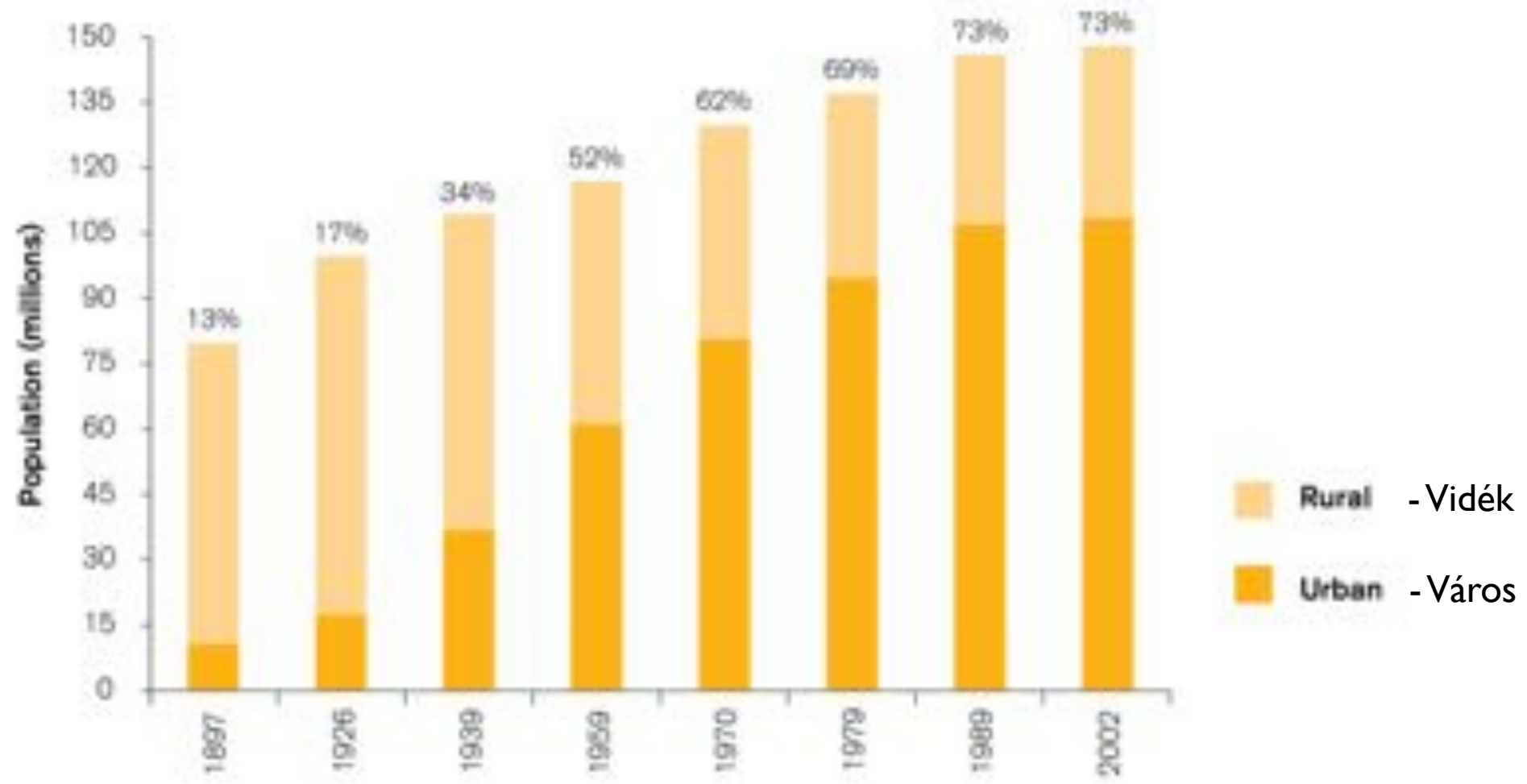
M1 és M3 érintésével	3 óra 41 perc	421 km
3 óra 42 perc forgalom nélkül		
▲ Ez az útvonal általában a leggyorsabb		
Beszűrés		
M1, E60 és M3 érintésével	4 óra 22 perc	446 km
4 óra 19 perc forgalom nélkül		
M1 érintésével	4 óra 29 perc	442 km
4 óra 26 perc forgalom nélkül		

Nyíregyháza felfedezése



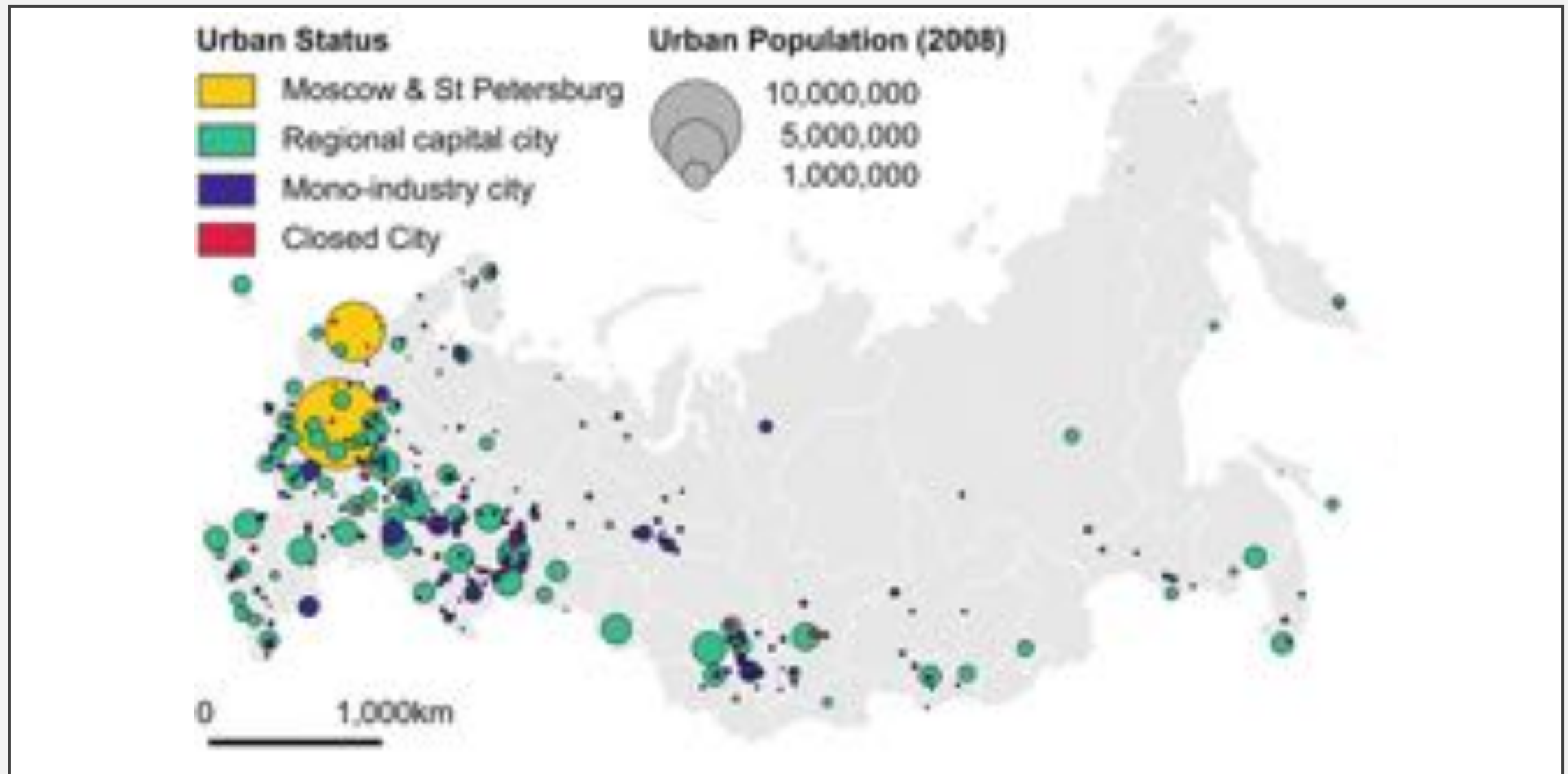
## 2. FELADAT

Oroszország a Föld [ ] területű országa, a lakosság száma pedig megközelítőleg [ ] millió fő. Területe hazánkénak közel [ ] Fővárosa, [ ] a kontinensünk [ ] városa, lakosság száma Budapesthez képest [ ] nagyobb. A népsűrűség értéke [ ], mint a magyar érték, körülbelül [ ] fő/km. Oroszország területén megközelítően észak–déli irányban fut végig az [ ] hegység. A hegységet tekintjük [ ] és [ ] természetföldrajzi határának. Oroszország területének körülbelül egynegyede tartozik [ ] hoz, háromnegyede [ ] hoz. Az ország lakosságának [ ] az európai országrészben él. A népesség területi eloszlása [ ]. Oroszország népességszáma az elmúlt évtizedben [ ]. A [ ] Európa leghosszabb folyója, amelynek a mentén fontos [ ] körzet alakult ki. A kőolaj- és a földgázbányászat fő színtere [ ], ahonnan [ ] keresztül szállítják el az energiahordozókat az ország többi részébe, illetve exportra.



Source: Becker, Mendelsohn and Benderskaya, 2012

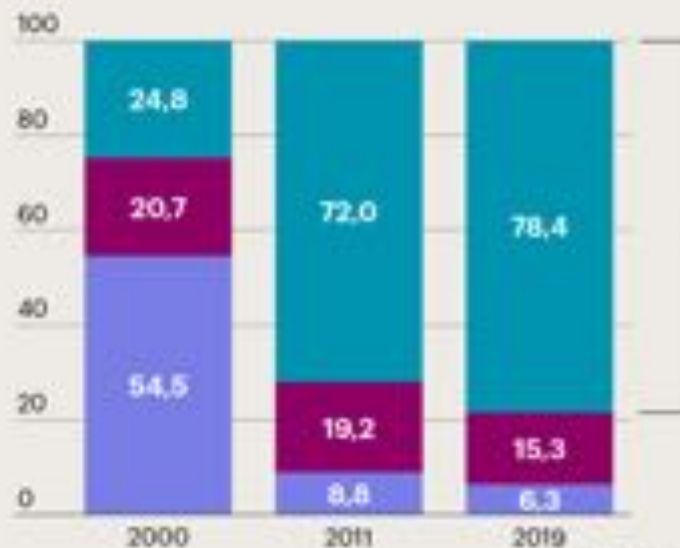
# A városi társadalom



## Material situation of professionals in Russia, %

- Higher income (income\* more than 1.5 of the subsistence minimum)
- Low income (income\* 1-1.5 of the subsistence minimum)
- Poor (income\* lower than the subsistence minimum)

Létminimum feletti jöv.  
Létminimum  
Létminimum alatti jöv.



Residency of professionals with higher incomes, 2019, %



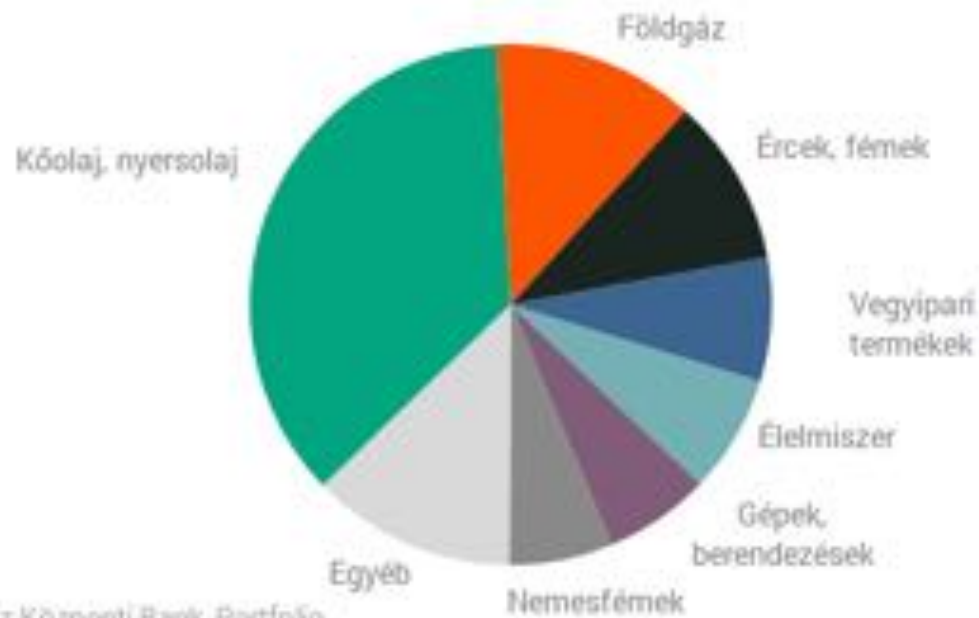
\* Average per capita income of household relative to the subsistence minimum.





# IV. Feladat: Ábrák

Az orosz export megoszlása (2021, %)



Forrás: Orosz Központi Bank, Portfólio





## IV. FELADAT

- **Nevezd meg fosszilis energiahordozókat, amelyek megtalálhatóak az ország területén?**

Kőolaj, földgáz, feketekőszén, barnakőszén

- **Melyik két energiahordozó a legjelentősebb export szempontjából?**

Kőolaj, földgáz

- **Mi az Oroszországgal való gazdasági kapcsolat jelentősége hazánk és Európa szempontjából?**

Európa a fosszilis energiahordozóinak nagyrészt Oroszországból szerzi be, energiafüggőség.

## IV. FELADAT

- **Nevezd meg 5 bányászott ércet!**

Uránérc, vasérc, rézérc, ólomérc, cinkérc, higanyérc, aranyérc, rézérc

- **Ha egy ország rendelkezik ezekkel az ásványkincsekkel, akkor milyen iparágak jelenlétére enged következtetni?**

Vas és acélgyártás, gépipar (gépjárműgyártás), hadászat, atomipar

- **Hol helyezkedik el a világban Oroszország gazdasági fejlettség alapján?**

Az egyfőre jutó GDP alapján közepes gazdasági fejlettségű ország.