



Nem csak puszta a róna

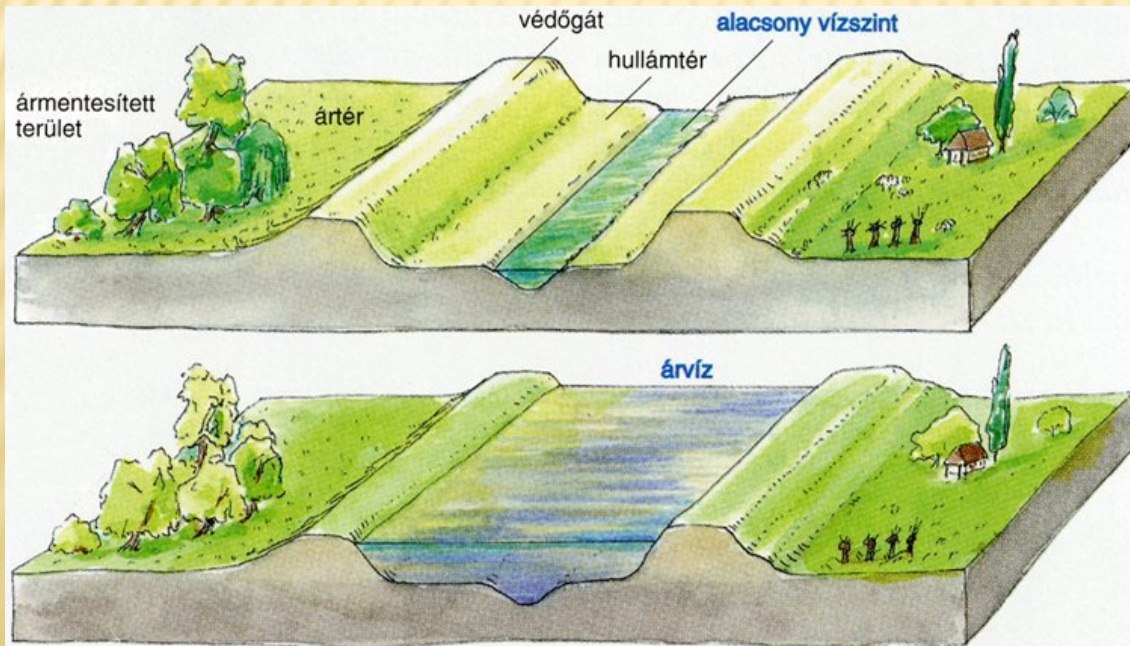
# AZ ALFÖLD ÉS A KISALFÖLD

# KIALAKULÁSUK

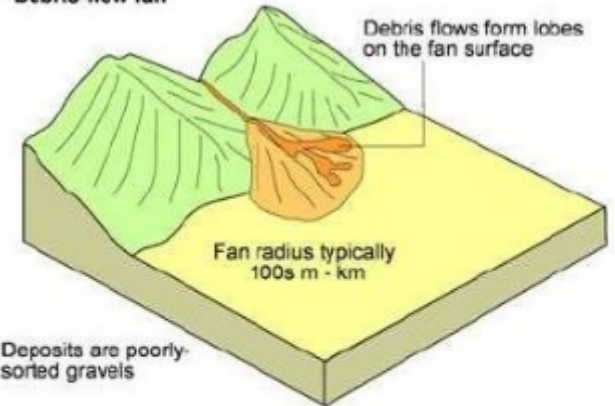
✗ hordalékkúp - homokbucka

(<https://tinyurl.hu/yl4m>)

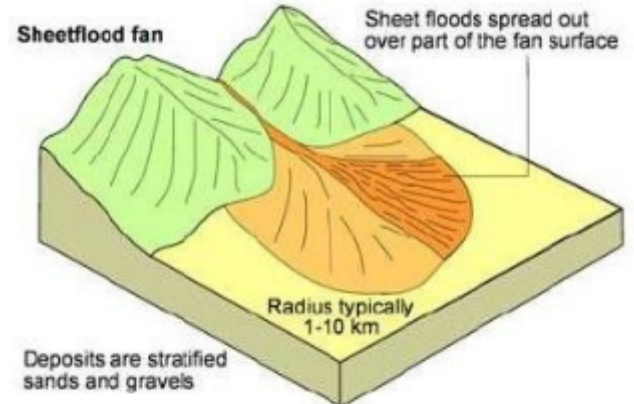
✗ ártér



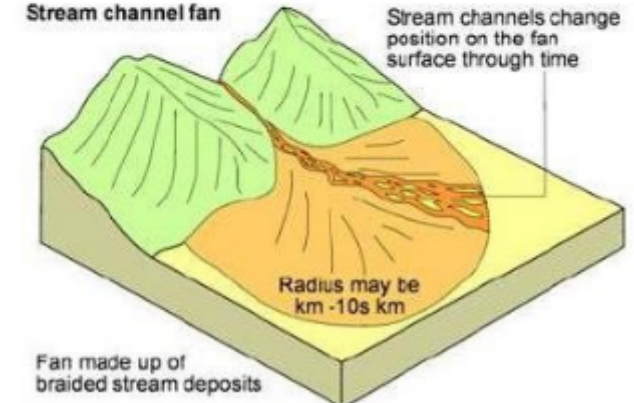
Debris-flow fan



Sheetflood fan



Stream channel fan



# KIALAKULÁSUK

- × löszvidék

(<https://tinyurl.hu/sSX3>)

(<https://tinyurl.hu/PFWu>)

- × tanúhegy (<https://tinyurl.hu/aG70>)

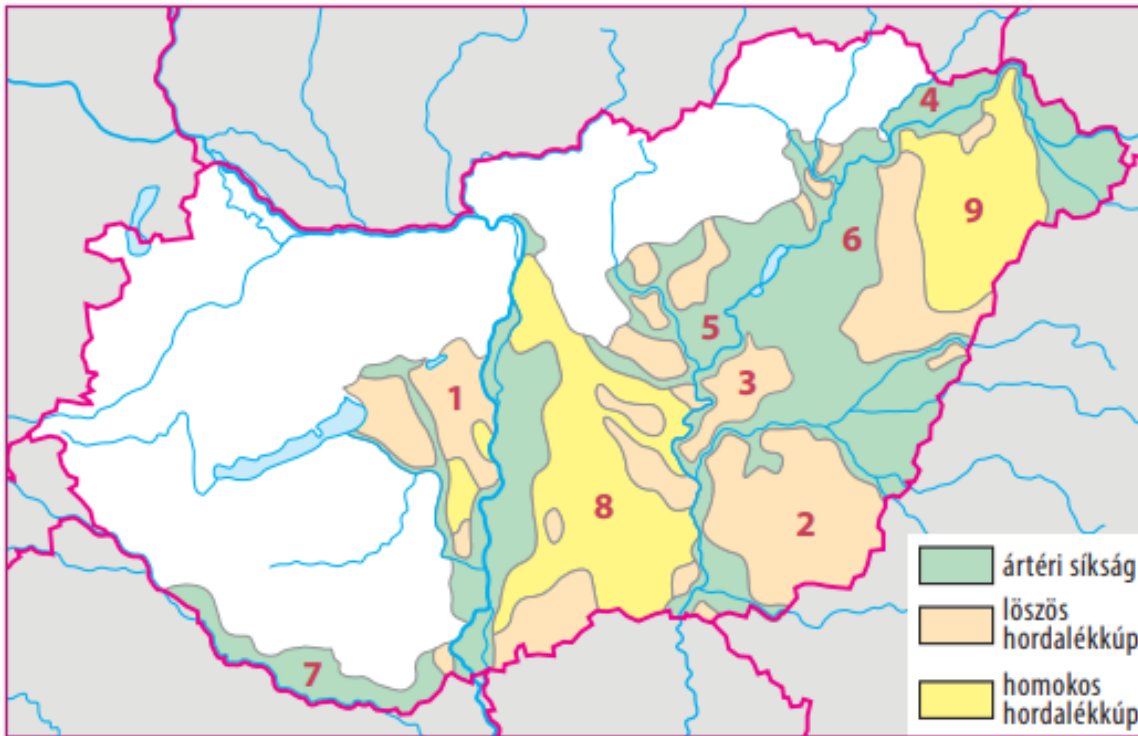


A lepusztulás folyamata: a tanúhegy kialakulása

# MUNKAFÜZET 26/4. FELADAT

## 4 Az Alföld tájai

Tanulmányozd hazánk domborzati térképét, és oldd meg a hozzá kapcsolódó feladatokat!



a) Nevezd meg a térképen számokkal jelölt tájakat!

1. ....
2. ....
3. ....
4. ....
5. ....
6. ....
7. ....
8. ....
9. ....

b) Csoportosítsd a felsorolt tájakat a térkép jelrendszere segítségével a táblázatban, kialakulásuk módja szerint! Segítségül elkeztük a táblázat kitöltését.

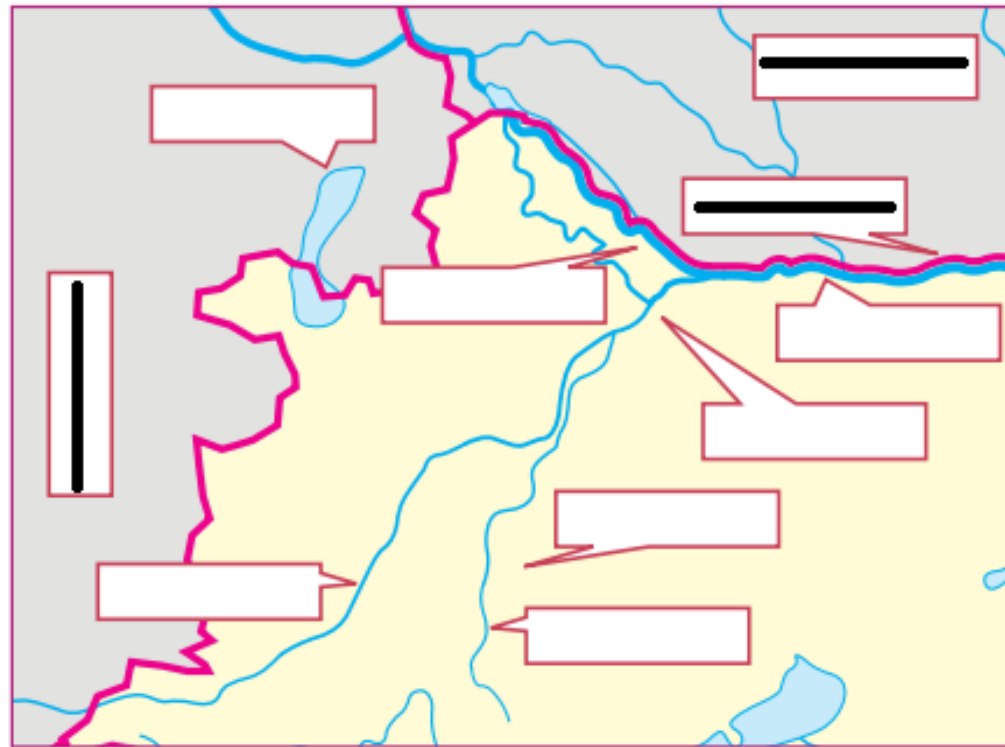
A kialakulás módja			feltöltődés árterületen
A táj száma a térképen	1.		Aktiválja a Windows rendszert a

# MUNKAFÜZET 26/5. FELADAT

## 5 A Kisalföld tájain

Egészítsd ki a térképet: írd a megfelelő helyre az alábbi neveket!

~~Ausztria~~, Duna, Fertő, Győri-medence,  
Marcal, Marcal-medence, Rába, Szigetköz,  
~~Szlovákia~~, ~~Országhatár~~



# HÁZI FELADAT

---

- ✘ Alföld és Kisalföld területén elhelyezkedő 5 nemzeti parkot megkeresni.

ÜGYESEN DOLGOZATOK! 😊

