

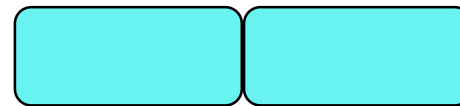




ÖSSZEFOGLALÁS
(DÉL-EURÓPA ÉS KELET-EURÓPA)



Csoportalkotás

Tanári asztal



Csoportosítsátok az elemeket a táblázat alapján,
és nevezzétek el az utolsó oszlopot!

Dél-Európa	Kelet-Európa	

Appenninek, Balkán-hegység, Dinári-hegység, Fekete-tenger, Földközi-tenger,
Kelet-európai-síkság, Párizsi-medence, Pireneusok, Pó-folyó, Urál-hegység, Volga

Megoldás

Dél-Európa	Kelet-Európa	Franciaország
Appenninek	Fekete-tenger	Párizsi-medence
Balkán-hegység	Kelet-európai-síkság	
Dinári-hegység	Urál-hegység	
Földközi-tenger	Volga	
Pó-folyó		
Pireneusok		

Helyezzétek a post-iteket a körvonalas térkép megfelelő téglalapjába!

Appenninek

Balkán-hg.

Dinári-hg.

Fekete-tenger

Földközi-tenger

Kelet-európai-síkság

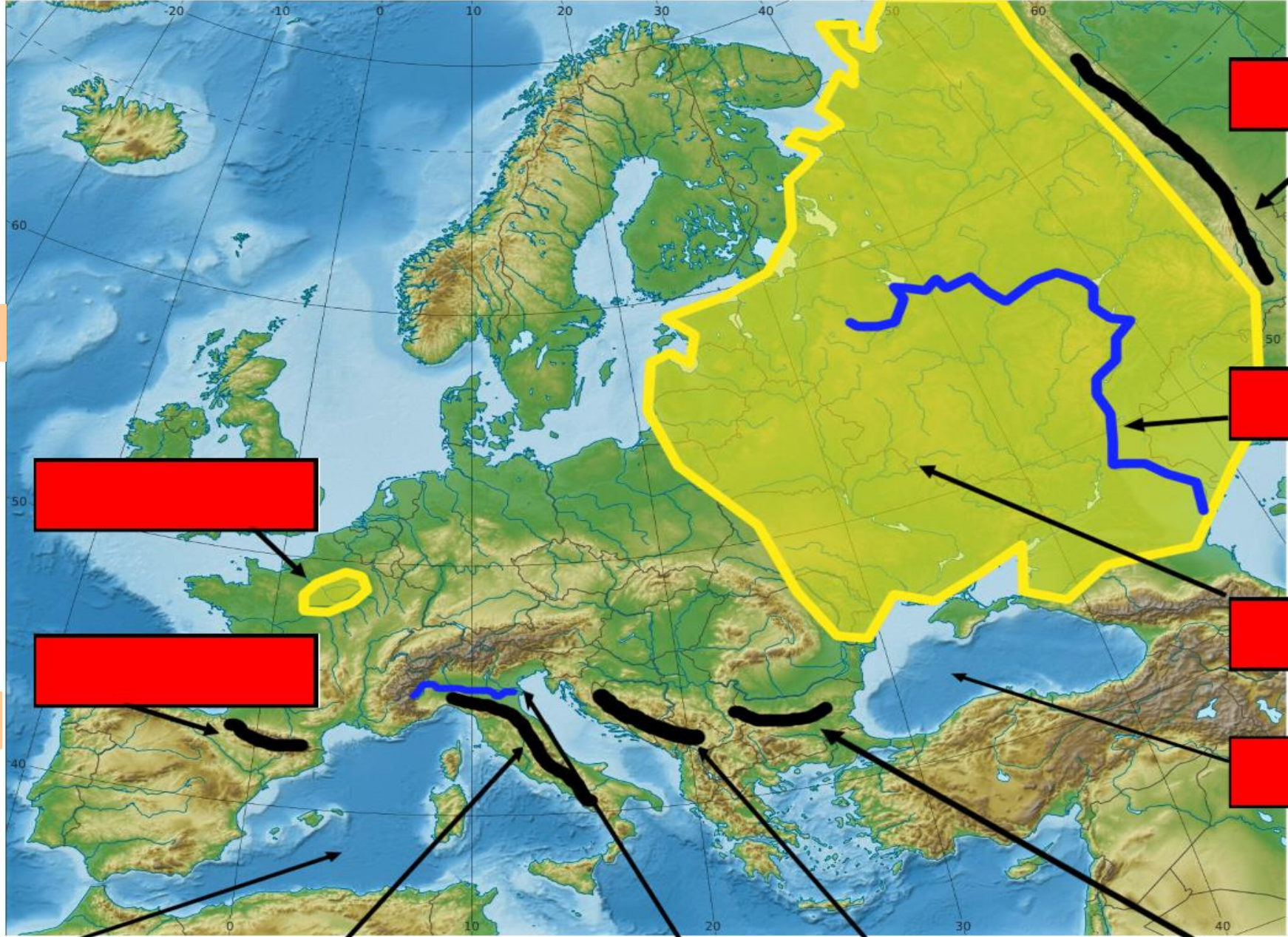
Párizsi-medence

Pireneusok

Pó-folyó

Urál-hg.

Volga



[Red box]

[Red box]

[Red box]

[Red box]

[Red box]

[Red box]

[Red box]

[Red box]

[Red box]

[Red box]

[Red box]

1, A jugoszláv utódállamok közül melyik országnak a legnagyobb a GDP/fő értéke napjainkban?

Horvátország

Szlovénia

Szerbia

Koszovó

2, Olaszország déli részén az északi területekkel
ellentétben...

Fejlettebb a gazdaság

A maffia szerepe kicsi

Magas a munkanélküliség és az elvándorlás

Nagy ipari háromszög található

3, Melyik négy országnak származik a legtöbb bevétele a turizmusból?

Franciaország, Görögország, Spanyolország, Ukrajna

Görögország, Spanyolország, Koszovó, Albánia

Franciaország, Görögország, Oroszország, Szerbia

Franciaország, Görögország, Spanyolország, Olaszország

4, Melyik ország birtokolja a Föld legnagyobb ismert földgázkészletét?

Olaszország

Oroszország

Ukrajna

Spanyolország

5, Mi az üdülőövezet? Fejezd be a mondatot! Összefüggő területek, melyek gazdasága...

A turizmuson alapszik

Csak a külföldi turistákon alapszik

Az árucserén alapszik

A közlekedésen alapszik

6, Mi az oka Koszovó gazdasági elmaradottságának?

Az ipart és a mezőgazdaságot tönkretette a szocializmus

Háborúk, frissen létrejött állam, mely még nem stabil

Horvátország és Szlovénia kifosztja az országot

Teljesen bezárkózik az ország a kommunizmus miatt ma is

7, Melyik felsorolás tartalmaz CSAK fővárosokat?

Moszkva, Barcelona, Zágráb, Róma

Belgrád, Párizs, Szófia, Nápoly

Tirana, Belgrád, Szentpétervár, Marseille

Moszkva, Ljubljana, Madrid, Zágráb

8, Melyik ország gazdaságára jellemző: atomenergia(78%)
luxuscikkek (dior), repülőgépgyártás?

Franciaország

Oroszország

Olaszország

Spanyolország

9, Melyik befejezés igaz Oroszországra? A világ...

Legnépesebb országa

Legfejlettebb országa

Leglátogatottabb országa

Legnagyobb területű országa

10, Melyik ország területén él a baszk népcsoport?

Spanyolország

Bosznia-Hercegovina

Oroszország

Albánia

Az Európai Unió tagjai

